

د زده کړې موخه

زده کوونکي باید د دې تعلیمي لارښود په پای کې وکولی شي لاندې موضوعات په ښه ډول تحلیل کړي: مرکب تناسب، فیصد، احدیت، تخفیف، ساده او مرکب ربح، متشابه اشکال، متشابه څو ضلعي، متوازي کرښې، د مثلث په مثلث کې د تالس قضیه، د تشابه حالتونه، مثلثونه، لومړی حالت، دوهم حالت، دریم حالت. تناسب مرکب.

ګرانو زده کوونکو! د نن ورځې تعلیمي هدف او موضوع مرکب تناسب دی. تاسو باید زده کړئ چې مرکب تناسب څه شی دی؟ او په ورځني ژوند کې یې څنګه کارول کېږي؟

په دې درس کې به تاسو د مرکب تناسب د حل ساده او منطقي طریقې زده کړئ، نو رځنې چې پیل وکړو، خو د درس له پیل څخه مخکې موږ له تاسو تمه لرو چې تاسو د تناسب تعریف، مستقیم تناسب او غیر مستقیم تناسب زده کړې وي.

د مرکب تناسب تعریف: مرکب تناسب هغه وخت کارول کېږي چې په یوه مسئله کې له یوې نسبت څخه زیات عوامل دخپل وي. یعنې، هغه مساوات چې له دوه څخه زیات نسبتونه لري، مرکب تناسب ورته وايي.

لکه:

$$\text{د مرکب تناسب} \quad \frac{a}{b} = \frac{c}{d} = \frac{e}{f} = \frac{g}{h}$$

په پورته رابطه کې a,d,f,h طرفین b,c,e,g وسطین نومول کېږي

د مرکب تناسب د حل طریقه: د مرکب تناسب د مجهول مقدار معلومولو لپاره په ساده او منطقي ډول لاندې څو مرحلې په پام کې ونیسئ:

- ټولې عوامل لیست کړئ، کسان، ورځې، کار، مقدار او نور.....
- ټول نسبتونه مستقیم نسبت ته بدل کړئ، د حل اسانه کولو لپاره ټول غیر مستقیم نسبتونه مستقیم کړئ.
- د نسبتونو ټاکل، یعنې تحلیل وکړئ چې آیا ستاسو نسبت مستقیم دی که غیر مستقیم.

که موږ یوه ښکلي جمع بندۍ پایله ولرو، نو موږ دې نتیجې ته رسېږو، لومړی ټول عوامل لیست کوو، بیا تحلیل کوو چې نسبتونه مستقیم دي که غیر مستقیم، که زموږ نسبت مستقیم وي په خپله بڼه یې لیکو، خو که نسبت غیر مستقیم وي، هغه مستقیم نسبت ته تبدیل کوو یا نسبت برعکس کوو) او په پای کې طرفین او وسطین ټاکو.

مثالونه: د ښه زده کړې او د نړیوالو امتحانونو لپاره د چمتووالي لپاره، تاسو باید لاندې درې مثالونو ته پام وکړئ،

- دغه پوښتنې ستاسو د درس پورې اړه لري او زده کړه یې لازمي ده.
- منځنۍ مثالونه:** دغه پوښتنې هم د ښوونځي د کتاب او ستاسو د درس پورې اړه لري، چې تاسو باید یې زده کړئ.

3.

سخت مثالونه (دروند): دغه پوښتنې ستاسو د ښوونځي د کچې څخه پورته دي او د وړتیا لرونکو او ځیرکو زده کوونکو لپاره ځانګړې دي. زده کړه یې لازمي نه ده، خو وړتیا لرونکي زده کوونکي کولی شي د خپل پوهې کچه لوړه کړي

مثالونه

مثال 1

د 120 kg جنس د 100 km په واټن انتقال 4000 Af لګښت لري. د 240 kg جنس د 80 km په فاصله کې مصرف څومره کېږي؟ حل.

$$\frac{120}{240} = \frac{100}{80} \cdot x \Rightarrow x = \frac{240 \cdot 80 \cdot 4000}{120 \cdot 100} = 6400$$

د جنس انتقال لګښت 240kg به فاصله 80km، 6400 Af کېږي

مثال 2

10 تنه کارګر د 200m² ځمکه په 5 ورځو کې ډبره فرشوي. نو 5 تنه کارګر څو ورځو کې 100m² ځمکه فرش کولی شي؟ حل.

$$\frac{10}{5} = \frac{200}{100} \cdot x \Rightarrow x = \frac{10 \cdot 100 \cdot 5}{5 \cdot 200} = 5$$

نو، 5 تنه کارګر 5 m² 100 m² ځمکه په 5 ورځو کې فرش کوي.

مثال 3

د 6 چاپ ماشینونه په 6 ساعتونو کې 12800 پاڼې چاپوي. نو 8 ماشینونه په 8 ساعتونو کې څو پاڼې چاپوي؟

حل:


$$\frac{6}{x} = \frac{12800}{51200} \Rightarrow x = \frac{6 \cdot 51200}{12800} = 24$$

نو، 32 ماشينونه به 8 ساعتونو کې 51200 پانې چاپوي.

فیصد

فیصد د Percentume له کلمې څخه اخیستل شوی دی، چې معنی یې «یو په سل کې» ورکوي. یعنې د یوه شمېر د سلنې پر اساس محاسبه فیصد بلل کېږي، او د (%) په نښه ښودل کېږي. فیصد په بېلابېلو برخو کې کارول کېږي، لکه تجارت، بانکداري، کرنه، داروسازي او نور. مثلاً په دې ډول لیکل کېږي: 28%

ښه ده چې د فیصد لپاره یو فورمول جوړ کړو، چې داسې لوستل کېږي:



مثال 1

30 فیصد د کوم شمېر څخه 90 کېږي؟

پاسخ

$$\frac{30}{90} = \frac{x}{100} \Rightarrow x = \frac{30 \cdot 100}{90} = 33.33$$

مثال 2

د یوې کورس د زده کوونکو شمېر 1000 دی، نو د هغه 20% شمېر زده کوونکي دی؟

پاسخ

$$\frac{100}{20} = \frac{1000}{x} \Rightarrow x = \frac{1000 \cdot 20}{100} = 200$$

احدیت

احدیت د مستقیم تناسب د محاسبې یوه طریقه ده، چې په تجارتي معاملو او مختلفو محاسبوي مسایلو کې د اړتیا وړ کېږي ترڅو د یو واحد د اجناسو قیمت یا د یو مشخص معیار نرخ وټاکل شي.

مثال

- که د 20 کیلوگرامو تېلو قیمت 1500 افغانی وي، مطلوبه ده د یوه کیلوگرام تېلو قیمت معلومول.
- یا که 100 کسان یو کار په 5 ورځو کې ترسره کړي، نو یو کس دغه کار په څو ورځو کې ترسره کوي؟
- یا څو کسان هماغه کار په یوه ورځ کې ترسره کوي؟

هره یوه له یادو پوښتنو سره احدیت تړاو لري. که څه هم دغه مسایل د مستقیم یا غیر مستقیم تناسب ځانګړې حالتونه دي، خو د محاسبوي مسایلو تحلیل کې لکه د تقسیم، تناسب، ربح، تخفیف او نور، د یو واحد ارزښت یا د معیار ټاکل (احدیت) د محاسبې لومړی ګام ګڼل کېږي.

مثال 1

یو ډله زده کوونکو ته چې 15 غړي لري، 495 پانې ورکړل شوې، او بلې ډلې ته چې 12 غړي لري، 384 پانې ورکړل شوې. د کومې ډلې هر غړي ته د پانې شمېر زیات دی؟

حل.

$$\frac{495}{15} = \frac{384}{x} \Rightarrow x = \frac{384 \cdot 15}{495} = 11.52$$

$$\frac{384}{12} = \frac{495}{x} \Rightarrow x = \frac{495 \cdot 12}{384} = 15.375$$

$$100\% - 12\% = 88\%$$

$$\left. \begin{array}{l} x \quad 17600 \\ 100 \quad 88 \end{array} \right\} \rightarrow x = \frac{100 \cdot 17600}{88} \Rightarrow x = 20000$$

پاسخ ✓

ساده ربح

هغه ګټه چې د ټاکلې پانګې، ټاکلې مودې او ټاکلې نرخ څخه ترلاسه کېږي، ساده ربح بلل کېږي. په یاد ولرئ چې د مودې محاسبه معمولاً په کلونو کې کېږي، داسې چې یو کال 12 میاشتې او 360 ورځې ګڼل کېږي.

د ساده ربح فورمول

$$\text{ربح} = \frac{\text{قیمت} \cdot \text{وخت} \cdot \text{سرمایه}}{100}$$

مثال 1

د 2400 ډالرو په مقدار باندې د 4% په سود د 2 کالو لپاره محاسبه کېږي.

$$I = \frac{2400 \cdot 4 \cdot 2}{100} = \frac{24 \cdot 4 \cdot 2}{1} = 192\$$$

پاسخ ✓

نو، سود (I) دلته عیناً د ساده سود په معنی دی.

مرکبه ربح

که د یوې پانګې ګټه په ټاکلې موده کې په دوره یي ډول د اصلي پانګې سره اضافه شي او د راتلونکې دورې لپاره د نوې پانګې په توګه په ګټه کې واچول شي او دغه پروسه دوام وکړي، نو دې ته مرکب ربح ویل کېږي.

یعنې، که د یوې پانګې ګټه بیا په اصلي پانګه او پخوانۍ ګټه اضافه شي، نو نوې پانګه د ګټې سره چې ترلاسه کېږي، مرکب ربح بلل کېږي.

مثال 2

په 500 افغانۍ کې 20 کتابچې اخیستل شوې دي، نو د 35 کتابچو قیمت څو افغانۍ کېږي؟

پاسخ ✓

$$\frac{500}{20} = 25 \Rightarrow 35 \cdot 25 = 875$$

په پایله کې د 35 کتابچو شمېر 875 افغانۍ کېږي

تخفیف

یو له مسایلو څخه چې د تجارت پورې اړه لري دا دی چې اکثره وخت پلورونکي د زیاتو پېرودونکو د جذبولو لپاره اجناس یا توکي له اصلي قیمت څخه لږ پلوري. دغه عمل تخفیف بلل کېږي. تخفیف یعنې هغه مقدار پیسې چې پلورونکي د اصلي قیمت څخه لږ د مشتری نه اخلي. نو تخفیف د فیصد یو ډول استعمال دی. او ټول مسایل یې د فیصد فورمول په مرسته حل کېږي.

مثال 1

یو جنس چې ارزښت یې 2400 افغانۍ دی، په تخفیف سره پلورل کېږي. تاسو باید د تخفیف مقدار او د پلور قیمت معلوم کړئ.

پاسخ ✓

$$\frac{100}{2400} = \frac{8}{x} \Rightarrow 100x = 19200 / : 100, x = 192$$

د دې تخفیف مقدار 192 افغانۍ دی او د پلور قیمت یې 2208 افغانۍ دی.

مثال 2

یوه جنس په تغدو پیسو د 12% تخفیف په نظر کې نیولو سره په 17600 افغانیو وپلورل شو. د جنس اصلي قیمت پیدا کړئ.

- A د لومړۍ پانګې اندازه وي،
- r د ګټې نرخ وي،
- P د پای پانګې اندازه وي،

نو د پای پانګې اندازه له لاندې رابطه څخه ترلاسه کېږي.

$$n \text{ وخته کال} \Rightarrow P = A(1+r)^n \text{ وخت (قیمت } 1 + \text{) مخکنی سرمایه = نهایی سرمایه}$$

$$\Rightarrow S = P - A \text{ لومړنۍ سرمایه - نهایی سرمایه = فایده}$$

مثال 1

د 1000000AF افغانیو سرمایه د کال په 10% مرکبې ربحی سره په بانک کې ایښودل کېږي د 4 کال وروسته نوموړې سرمایه څو افغانی کېږي؟

پاسخ

$$\left. \begin{array}{l} A = 1000000 \\ n = 4 \text{ year} \\ r = 10\% \\ P = ? \end{array} \right\} P = A(1+r)^n$$

$$P = 253840 \left(1 + \frac{10}{100}\right)^4 = 10^6 \left(\frac{11}{10}\right)^4 = 10^6 \frac{11^4}{10^4} = 10^2 \cdot 11^4 \Rightarrow p = 1464100$$

مشابه مثلثونه

مثلثونه هغه وخت سره متشابه وي چې لاندې شرایط ولري:

1. دوه مثلثونه متشابه وي که د دوی اړخونه په تناسب کې وي.
2. دوه مثلثونه متشابه وي که د دواړو مثلثونو دوی-دوی زاویې سره مساوي وي.
3. که د دوه مثلثونو دوه اړخونه او د هغو اړخونو ترمنځ زاویه سره مساوي وي، نو مثلثونه متشابه دي.

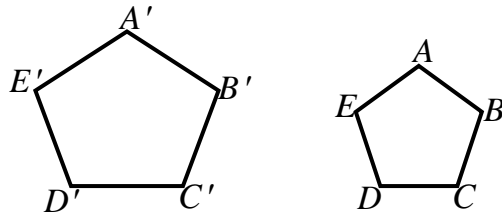
د مثلث د ورته والي حالتونه

1. که چېرې د یوه مثلث دوه زاویې د بل مثلث له دوو زاویو سره مساوي وي، مثلثونه ورته دي.
2. که چېرې د یوه مثلث دوه ضلعي د بل مثلث له دوو ضلعو سره متناسب او د ضلعو په منځ کې زاویې یې مساوي وي مثلثونه یو بل ته ورته دي.
3. که چېرې د یوه مثلث درې ضلعي د بل مثلث له درېو ضلعو سره متناسبې وي، نو دا دوه مثلثونه یو بل ته ورته دي.

ورته مضلع ګانې

تعریف: څو ضلعي شکلوته مشابه بلل کېږي چې لاندې خصوصونه ولري:

1. د راسونو شمېر یې مساوي وي.
2. په ورته مضلع ګانو کې باید ټولې زاویې یو په یو له یو بل سره انطباق منونکي وي.
3. د مساوي زاویو پر وړاندې ضلعي یو له بله سره متناسبې وي.



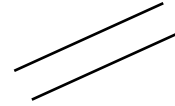
د $ABCDE$ د مضلع مضلې د $A'B'C'D'E'$ ورته دي. ځکه چې:

$$A \cong A', B \cong B', C \cong C', D \cong D', E \cong E'$$

$$\frac{\overline{AB}}{\overline{A'B'}} = \frac{\overline{BC}}{\overline{B'C'}} = \frac{\overline{CD}}{\overline{C'D'}} = \frac{\overline{DE}}{\overline{D'E'}} = \frac{\overline{EA}}{\overline{E'A'}}$$

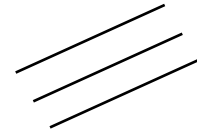
موازي خطونه

دو مستقیم خط موازي دي، که دغه خط يا د هغوی امتدادونه هېڅ مشترک ټکی ونه لري او د دواړو خط ترمنځ واټن په ټولو نقطو کې یو شان وي.



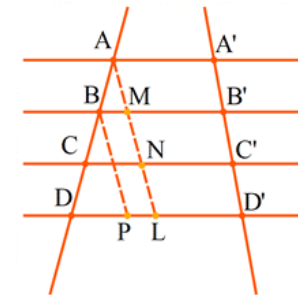
مهم ټکي

1. که دوه خط د درېيمې کرښې سره په يوه وخت کې موازي وي، نو دغه دواړه خط هم له يو بل سره موازي دي.



د ټالسي قضيه

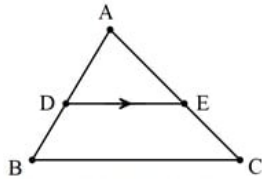
هرکله چې دوه يا څو موازي خطونه د دوو قاطع کرښو له خوا پرې شي، نو پر دغو قاطع خطونه کې متناسبې برخې جلا کوي.



$$\frac{AB}{A'B'} = \frac{BC}{B'C'} = \frac{CD}{C'D'}$$

د ټالسي قضيه په مثلثه

قضيه 1: هر کله چې د مثلث له يوې ضلع داسې يوه کرښه رسم شي چې د مثلث له يوه ضلع سره موازي وي، نو د مثلث نور دوه ضلعونه په متناسب ډول وېشي.



$$DE \parallel BC \Rightarrow \frac{AD}{DB} = \frac{AE}{EC}$$

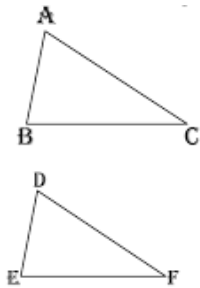
$$DE \parallel BC \Rightarrow \frac{AD}{AB} = \frac{AE}{AC} = \frac{DE}{BC}$$

د تشابه مثلثونو حالاته

لومړی حالت: که دوه مثلثونه دوه برابره زاويې ولري، نو دغه مثلثونه يو له بل سره مشابه دي.

دویم حالت: که د يو مثلث دوه ضلعي د بل مثلث د دوو ضلعو سره متناسب وي او منځنی زاويه يې برابره وي، نو دغه مثلثونه مشابه دي.

درېيم حالت: که د يو مثلث درې ضلعي د بل مثلث د درې ضلعو سره متناسب وي، نو دغه دوه مثلثونه يو له بل سره مشابه دي.



$$\hat{A} = \hat{D}, \hat{B} = \hat{E}, \hat{C} = \hat{F}$$

$$\frac{AB}{DE} = \frac{AC}{DF} = \frac{BC}{EF} = k$$

په دې صورت کې لیکو

$$\triangle ABC \sim \triangle DEF$$