

د اتم تولگی بیولوژي – درېیم فصل

موخې: د موادو د لېږد په اړه پېژندنه او د هغې اهمیت

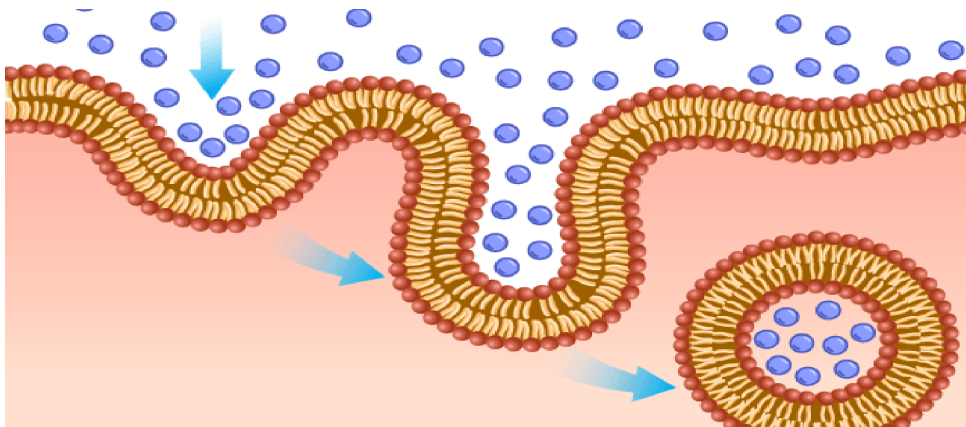
۱. سیسټم او ژوندی موجودات

- ژوندی موجود هر هغه شی دی چې د ژوند ځانګړنې ولري، لکه تنفس، خوړل، تولید مثل، او د چاپېریال ځواب ویل.
- سیسټمونه د ژونديو موجوداتو په بدن کې بېلابېل وظيفي سرته رسوي څو موجود ژوندی، سالم او فعال پاتې شي.

۲. د حجروي عمليې

- حجره د ژوند تر ټولو کوچنی واحد دی چې دننه یې بېلابېل عملیات ترسره کېږي څو ژوند دوام وکړي. د دې عملیاتو بیلګې:

- خواړه تر لاسه کول
- خواړه تجزیه کول
- د موادو جذب
- د فاصله موادو ایستل



## ۳. په حجرې کې د موادو د انتقال عمليي

- مواد د دوو لارو حجرو ته داخلېږي او یا د هغې څخه وځي:
- **فعاله لېږدونه:** انرژۍ په مصرف سره
- **غیر فعاله لېږدونه:** د انرژۍ پرته



(الف) انځور مراوی نبات

(ب) انځور تازه نبات  
(۳-۲) انځور د نبات په تازه  
توب د اوبو اغیز

## ۴. د نفوذ عمليي (Diffusion)


- خپرېدنه هغه غیر فعال انتقال دی چې د مالیکولونو کوچني ذرات د یوې ځای نه بل ځای ته حرکت کوي.
- د موادو انتقال د غلظت د توپیر پر بنسټ ترسره کېږي. کوچني مالیکولونه د لوړ غلظت ځای نه ټیټ غلظت ځای ته خوځي.
- د بیلګې په توګه: د اکسیجن مالیکولونه د سږو د هوجرو له هوا نه د وینې حجرو ته ننوځي.
- دا عمل د انرژۍ ته اړتیا نه لري او په خپل سر ترسره کېږي.

## ۵. نیمه قابل نوذ پرده او له هغې څخه د اوبو تېرېدنه – آسموسیس (Osmosis)

- د حجرې غشا نیمه نفوذی ده، یعنې یوازې ځینې مواد پرې تېره شي.
- اوسموسیس: د اوبو د مالیکولونو تېرېدل د لږ حل شوې موادو لرونکي محلول څخه لوړ محلول ته د نیمه نفوذی غشا له لارې.
- دا عمل د اوبو د توازن ساتلو لپاره خورا مهم دی څو حجره سالمه او فعاله پاتې شي.

## ۶. د ضیایي ترکیب – فوتوسنتیز (Photosynthesis)

- فوتوسنتیز هغه بهیر دی چې په ځینو ژوندیو موجوداتو کې لکه بوټو، جلبکونو او ځینو باکتریاوو کې ترسره کېږي.
- په دې عمل کې د لمر انرژي د خوړو په انرژي بدلیږي.



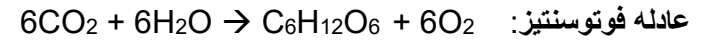
انځور په نباتاتو کې د فوتوسنتیز عملیه

د موادو اړتیاوې:

- د لمر رڼا
- اوبه
- کاربن ډای اکساید

محصولات:

- گلوکوز
- اکسیجن



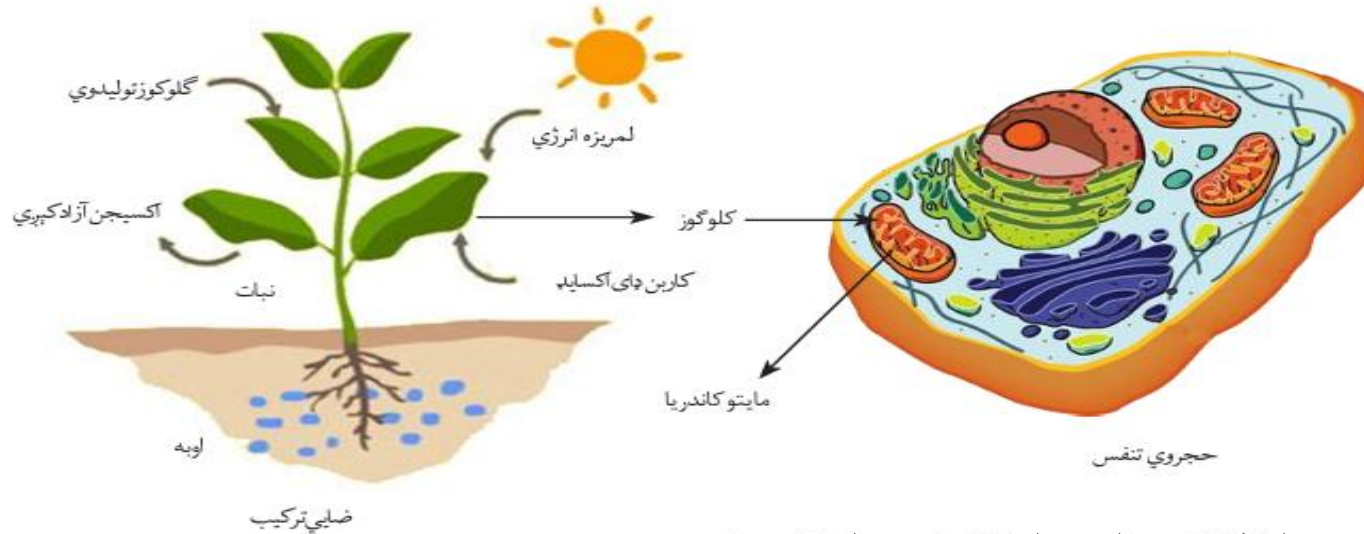
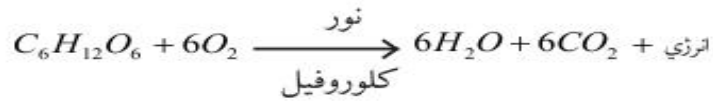
موضوع	لنډه تشریح
سیستم او ژوندی موجود	د بدن د برخو مجموعه چې د ژوند د دوام لپاره یو له بل سره کار کوي.
د حجروي عملي	د حجري دننه کارونه لکه تنفس، د موادو جوړول، د فضله موادو ایستل او د موادو لېږد.
خپرېدنه (Diffusion)	د موادو حرکت له لوړ غلظت څخه ټیټ غلظت ته، پرته له انرژۍ.
اوسموسیس (Osmosis)	د اوبو حرکت له رقیق محلول څخه غلیظ محلول ته د نیمه نفوذي غشا له لارې.
فوتوسنتیز (ضیایي ترکیب)	د لمر د رڼا، اوبو او کاربن ډای اکساید په وسیله د خوړو (گلوکوز) او اکسیجن جوړېدل.
د حجري تنفس	د خوړو ماتول او د اکسیجن په مرسته د انرژۍ تولید.

د حجرې تنفس

- هغه بهیر دی چې په کې گلوکوز او اکسیجن په انرژي (ATP)، کاربن ډای اکساید او اوبو باندې بدلېږي.
- د حجرې د ژوند لپاره د انرژي تر ټولو مهمه سرچینه ده.
- دا انرژي د حجرې په ټولو فعالو چارو کې لگول کېږي.

حجروي تنفس د لاندې معادلې په واسطه ښودلی شو

انرژي + کاربن ډای اکساید + اوبه → اکسیجن + گلوکوز



عملي فعالیت: د اسوموز عمل مشاهده د کچالو او مالګې اوبو په کارولو سره عملیه

**موخه :** پېژندنه چې څنگه د اوبو لیرد د نیمه نفوذي غشا له لارې (اوسموز) ترسره کېږي او د هغې اغېزې په سلو لونو باندې څنگه لیدل کېږي.

**اړتیا وسایل :**

- یو دانه کچالو
- دوه گیلاس اوبه
- مالګه
- چاقو (د احتیاط سره)
- ساعت یا ټایمر
- ترازو یا خطکټ (اړوند وسایل د کچې معلومولو لپاره)

**د ترسره کولو مرحلې:**

- 1 . کچالو په دوه کوچنیو ټوټو (د نږدې دوو مکعبونو په اندازه) پری کړئ.
- 2 . یوه ټوټه د اوبو په یوه گیلاس کې کېږدئ او بله یې د مالګینو اوبو (محلول د مالګې) په یوه گیلاس کې کېږدئ.
- 3 . دواړه ټوټې د څو ساعتونو لپاره پرېږدئ څو ښه لنډې شي.
- 4 . وروسته دواړه ټوټې د اوبو څخه راوایستئ او شکل او اندازه یې وګورئ او مقایسه یې کړئ:

- آیا هغه ټوټه چې په اوبو کې وه تغیر کړی؟
- آیا هغه ټوټه چې په مالګینو اوبو کې وه تغیر کړی؟

**علمي توضیح:**

کله چې د کچالو ټوټه په مالګینو اوبو کې کېښودل شي، د مالګینو اوبو غلظت زیات وي. د اوبو مالیکولونه د کچالو د حجرو له دننه څخه د نیمه نفوذي غشا له لارې بهر وځي تر څو د غلظت توازن برابر کړي. په دې حالت کې د اوبو ضایع کېدل د کچالو حجري نرموي او لږ څه وچوي.

خو هغه توتې چې د عادي اوبو په ګیلاس کې کېښودل شوي وي، امکان لري لا زیات پرسپیري، ځکه چې اوبه د نیمه نفوذي غشا له لارې د حجرو دننه ننوځي.

#### پوښتنې:

۱. څه نوم لري چې کله اوبه د نیمه نفوذي غشا له لارې د رقیق محلول څخه غلیظ محلول ته خوځېږي؟
۲. د کچالو د حجرو د جوړښت د ساتلو لپاره دا عمل ولې ګټور دی؟
۳. څه به پېښېږي که د بوتو حجرې خپل اوبه له لاسه ورکړي او وچې شي؟
۴. د حجرې غشا کوم ډول خاصیت لري؟
۵. تشریح کړئ چې ولې کچالو هغه وخت لږ څه نرمېږي کله چې مورې یې د مالګینو اوبو کې کېږدو؟