

**د دوولسم ټولگي د ریاضی تعلیمي لارښود – دریمه دوره**  
**مشتقات، د یو تابع مشتق، د مشتق هندسي تعبیر، د مشتق قوانین**

**د درس عمومي هدف**

دلته د مشتقونو اړوند د ریاضیاتو اصلي مفاهیم په بشپړه او لنډه توګه تشریح شوي دي. مشتق اخیستل د یو تابع د بدلون د نرخ د څېړني او تحلیل لپاره کارول کیږي. په بل عبارت، مشتق مور ته وایی چې یو تابع څنګه او په کوم سرعت سره بدلېږي.

**مشتقات**

- په فزیک کې د سرعت او تېزېدو محاسبه
- د اقتصاد په برخه کې د روندونو تحلیل
- د مسائلونو اعظمي/اقل کولو لپاره (مثلاً تابع کمینه یا زیاته کول)
- په انجینري او طبي علومو کې د لحظه‌ای بدلونونو ماډل جوړونه

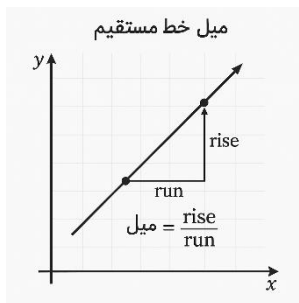
**❖ د یوې منحنی میل :**

**تعریف:** میل د زاویې تانجانټ دی چې د یو تابع ګراف له مثبت  $x$  محور سره جوړوي.

که د تابع ګراف یوه مستقیمه کرښه وي، نو د هغې میل لاندې ځانګړتیاوې لري:

- میل یې په ټولو نقاطو کې ثابت وي
- که وغواړو د مستقیمې کرښې میل پیدا کړو، له لاندې اړیکې څخه استفاده کوو:

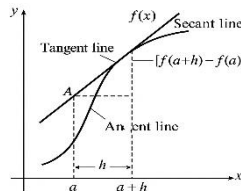
$$m = \tan\theta = \frac{y_2 - y_1}{x_2 - x_1}$$



که تابع د یوې درجې څخه لوړه درجه ولري، نو د هغې ګراف به د یوې منحنی کرښې شکل ولري او میل یې په هر نقطه کې د منحنی د لارې د بدلون له امله تغیر کوي. له همدې امله، میل یې په هر نقطه کې باید مطالعه شي.

د دې لپاره چې په هر نقطه کې میل ترلاسه کړو، په هماغه نقطه کې د منحنی یوه لمس کرښه (ماس) رسموو. په حقیقت کې، د منحنی میل په یوه نقطه کې مساوي دی له د هغې نقطې د لمس کرښې میل سره.

$$: f'(x) = \lim_{h \rightarrow 0} \frac{f(x+h) - f(x)}{h}$$



د وضاحت لپاره لاندې مثال په نظر کې ونیسو:

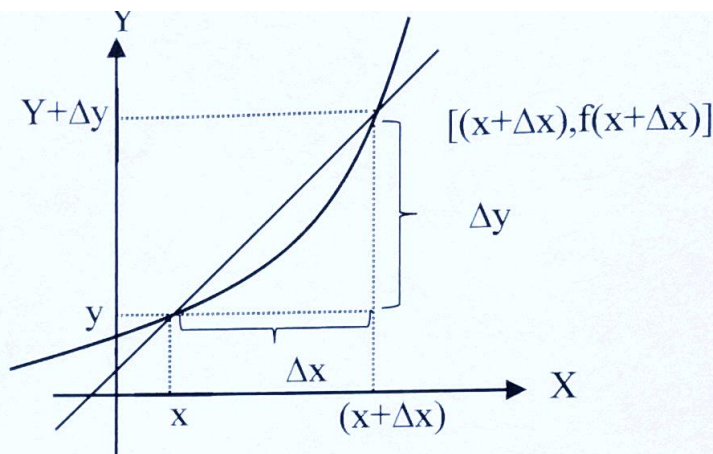
مثال 1: د  $y = x^2$  له منحنی سره د مماس میل د  $x = 3$  په ټکی کې پیدا کړی

$$f(x) = \lim_{h \rightarrow 0} \frac{f(x+h) - f(x)}{h} = \lim_{h \rightarrow 0} \frac{(x+h)^2 - x^2}{h}$$

$$= \lim_{h \rightarrow 0} \frac{x^2 + 2xh + h^2 - x^2}{h} = \lim_{h \rightarrow 0} \frac{h(2x+h)}{h} = \lim_{h \rightarrow 0} (2x+h) = 2x + 0$$

$= 2x \Rightarrow f'(3) = 2 \cdot 3 = 6$

❖ **د تابع منحنی بدلونونه:** کله چې د تابع بدلونونه په هر واحد د متغیر بدلون په اساس محاسبه کړو، نو منحنی بدلون د تابع ترلاسه کيږي. په بل عبارت، د تابع بدلون په هر واحد د متغیر بدلون کې، منحنی بدلون تابع بلل کيږي



$$\Delta y = f(x + \Delta x) - f(x)$$

$$\frac{\Delta y}{\Delta x} = \frac{f(x + \Delta x) - f(x)}{\Delta x}$$

❖ **د یوې تابع مشتق:**

د یو تابع د مشتق لپاره دوه ډوله تعریفونه وړاندې کوو:

**الجبري تعریف د مشتق:**

د تابع لحظه‌ای زیاتوالی مشتق بلل کيږي، یا مشتق د تابع د بدلونونو نسبت او د متغیر د بدلونونو لپمت (limit) دی، کله چې د متغیر بدلون صفر ته نژدې

$$f'(x) = \frac{\Delta y}{\Delta x} = \lim_{\Delta x \rightarrow 0} \frac{f(x + \Delta x) - f(x)}{\Delta x}$$

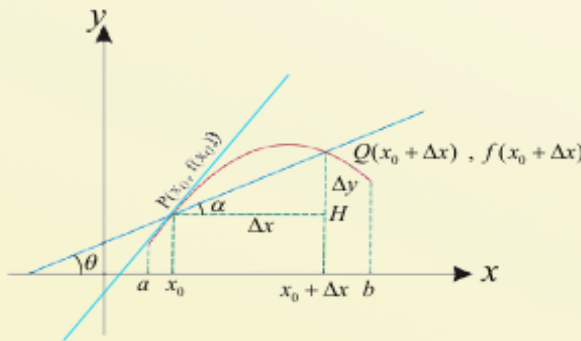
د وضاحت لپاره لاندې مثال په نظر کې ونیسو:

مثال: مشتق تابع  $f(x) = 2x$  پیدا وکړی

$$f'(x) = \lim_{\Delta x \rightarrow 0} \frac{f(x + \Delta x) - f(x)}{\Delta x} = \lim_{\Delta x \rightarrow 0} \frac{2(x + \Delta x) - 2x}{\Delta x} = \lim_{\Delta x \rightarrow 0} \frac{2x + 2\Delta x - 2x}{\Delta x} = \frac{2\Delta x}{\Delta x} = 2$$

دمشتق هندسي تعبیر: د مماس د منحنی د تماس په ټکي کې د تابع له مشتق څخه پ هغه ټکي کې عبارت دی، یا پ بل عبارت د هغې زاوې له ټانجینټ څخه عبارت دی چې د  $\Delta$  مستقیم څي يي د  $x$  د محور له مثبت جهت سره جوړوي

- د وضعیه کمیانو په مستوي کې د  $C$  منحنی یا د  $f(x)$  تابع داسې چې د  $[a, b]$  په انټروال کې متمادي وي
- گراف یې رسم او د  $P(x_0, f(x_0))$  او  $Q(x_0 + \Delta x, f(x_0 + \Delta x))$  ټکي د منحنی پرمخ وټاکئ.
- د  $\Delta$  مستقیم خط داسې رسم کړئ چې د منحنی د  $P$  او  $Q$  له ټکو څخه تېر شي.
- آیا ویلای شئ چې د  $\Delta$  مستقیم خط د  $x$  د محور له مثبت جهت سره څه ډول زاویه جوړوي؟
- ووايي چې د  $\frac{\Delta y}{\Delta x}$  یا  $\frac{HQ}{HP}$  نسبت د څه په نامه یادېږي؟
- که د  $Q$  ټکي د  $P$  ټکي ته ډېر نژدې شي ( $\Delta x \rightarrow 0$ )، نو د  $\Delta$  مستقیم خط په څه ډول کرښه بدلېږي په شکل کې یې وښئ.
- د  $\frac{\Delta y}{\Delta x}$  لېمیت کله چې  $\Delta x \rightarrow 0$  وکړي، په  $P(x_0, f(x_0))$  ټکي کې وڅیړئ.



د پورتنی فعالیت پایله داسې بیانوو:

د  $f(x)$  منحنی د تابع مشتق، د  $P(x_0, f(x_0))$  په ټکي کې د مماس له میل سره برابر دی، یعنې:

$$\lim_{\Delta x \rightarrow 0} \frac{\Delta y}{\Delta x} = y' = \tan \alpha = \tan \theta = m_{\Delta}$$

د مشتق قوانین :

تابع	مشتق	مثال
1) $y = a$	$y' = 0$	$y = 3 \Rightarrow y' = 0$
2) $y = ax$	$y' = a$	$y = 7x \Rightarrow y' = 7$
3) $y = ax^n$	$y' = a \cdot nx^{n-1}$	$y = 2x^3 \Rightarrow y' = 6x^2$
4) $y = u + v + \dots$	$y' = u' + v'$	$y = 3x^2 - 5x + 7 \Rightarrow y' = 6x - 5$
5) $y = u \times v$	$y' = u' \cdot v + v' \cdot u$	$y = (2x^2)(4x) \Rightarrow y' = 4x \cdot 4x + 4 \cdot 2x^2 = 16x^2 + 8x^2$
6) $y = au$	$y' = a \cdot u'$	$y = m \cdot 4x \Rightarrow y' = 4m$
7) $y = \frac{u}{v}$	$y' = \frac{u' \cdot v - v' \cdot u}{v^2}$	$y = \frac{3x^2}{4x} \Rightarrow y' = \frac{6x \cdot 4x - 4 \cdot 3x^2}{16x^2} = \frac{12x^2}{16x^2}$
8) $y = \frac{u}{a}$	$y' = \frac{u'}{a}$	$y = \frac{2x^2}{8} \Rightarrow y' = \frac{4x}{8}$
9) $y = \frac{a}{u}$	$y' = \frac{-a u'}{u^2}$	$y = \frac{3}{8} \Rightarrow y' = \frac{-15}{8}$
10) $y = au^m$	$y' = m \cdot a \cdot u' \cdot u^{m-1}$	$y = \frac{3}{5x} \Rightarrow y' = \frac{-15}{25x^2}$
11) $y = \sqrt{u}$	$y' = \frac{u'}{2\sqrt{u}}$	$y = 3 \cdot 2x^2 \Rightarrow y' = 2 \cdot 3 \cdot 4x \cdot 2x = 48x^2$
12) $y = \sqrt[m]{u^n}$	$y' = \frac{n \cdot u'}{m \sqrt[m]{u^{m-n}}}$	$y = \sqrt{2x} \Rightarrow y' = \frac{2}{2\sqrt{2x}}$
		$y = \sqrt[5]{x^3} \Rightarrow y' = \frac{3 \cdot 3x^2}{5 \sqrt[5]{x^{5-3}}} = \frac{9x^2}{5 \sqrt[5]{x^2}}$