

د نهم ټولگی تعلیمي لارښود (دریمه دوره)

تعلیمي موخې

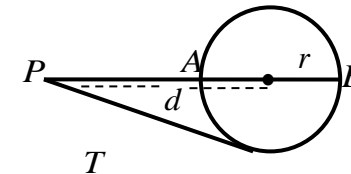
ګرانو زده کونکي! د دې لارښود په پای کې تمه کېږي چې تاسو لاندې موضوعات په ښه ډول تحلیل او درک کړئ. خو یادونه کوو چې ستاسو اصلي تمرکز باید د کتاب او د زده کړې ویدیوګانو باندې وي، ځکه چې تعلیمي لارښود موضوعات په ډېر ساده او مفهومي ډول تشریح کړي دي.

د دې تعلیمي لارښود په پای کې زده کول لاندې موضوعاتو کې اړین دي:

- په دایره کې د اوږدوالي اړیکې
- د یوه ټکي طاقت، نظر دایرې ته
- د دایرې مماس کرښه
- د دایرې دنننې زاویه
- د دایرې باندنۍ زاویه

د یوه ټکي طاقت، نظر دایرې ته

قضیه: هرکله چې د یوې دایرې له بهرني نقطې څخه د قاطعي کرښې سره یو مماس رسم شي، د دې مماس مربع د هغه نقطې د طاقت سره چې دایرې ته وګوري، مساوي وي.



$$\overline{PT}^2 = \overline{PA} \cdot \overline{PB} = d^2 - r^2$$

1. که د یوې نقطې طاقت دایرې ته مثبت وي، نو دغه نقطه دایرې څخه بهر موقعیت لري.

$$\overline{PT}^2 = d^2 - r^2 > 0$$

2. که د یوې نقطې طاقت دایرې ته صفر وي، نو هغه نقطه دایرې پر محیط موقعیت لري.

$$\overline{PT}^2 = d^2 - r^2 = 0$$

3. که د یوې نقطې طاقت دایرې ته منفي وي، نو هغه نقطه دایرې دننه موقعیت لري .

$$\overline{PT}^2 = d^2 - r^2 < 0$$

مثال: که د یوې نقطې فاصله د دایرې له مرکز سره مساوي په $8cm$ او د دایرې شعاع مساوي په $4cm$ وي، دایرې د طاقت څو کېږي؟

حل .

$$d^2 - r^2 = 8^2 - 4^2 = 64 - 16 = 48$$

مثال: د یوې نقطې فاصله د دایرې له مرکز $10cm$ وي، که د دې دایرې شعاع $4cm$ وي، نو د دې نقطې څخه د دایرې پر لور د مماس کرښې اوږدوالی څو کېږي؟

حل.

$$\sqrt{d^2 - r^2} = \sqrt{10^2 - 4^2} = \sqrt{100 - 16} = \sqrt{84}cm$$

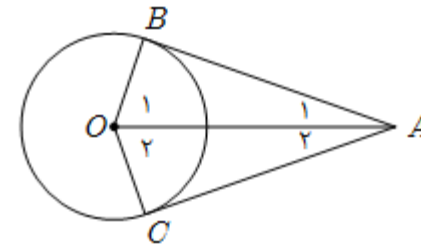
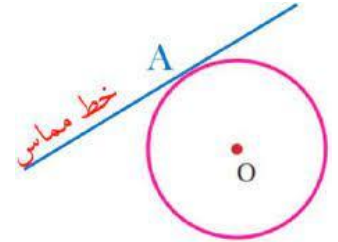
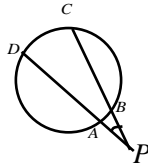
د دایرې مماس کرښه

قضیه: که له یوه بهرني نقطې څخه یوې کرښې ته دوه مماسي کرښې رسم شي، د دې مماسي کرښو اوږدوالی سره مساوي وي .

د دایرې باندنۍ زاویه

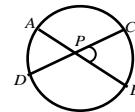
هغه زاويې چې د دوو قاطع کرینو، دوو مماسونو یا د یو قاطع او یوه مماس له پرېکړې څخه د دایرې په بهر کې منځ ته راغلي وي، د دایرې باندنۍ زاویه بلل کېږي.

$$\angle BAC = \frac{1}{2}(\angle DC - \angle AB)$$



د دایرې دنننۍ زاویه

هغه زاويې چې د دایرې په دننه کې، د دوو وترونو د تقاطع په مرسته منځ ته راځي، د دایرې دنننۍ زاويې بلل کېږي.



$$\angle CPA = \frac{1}{2}(\widehat{AD} + \widehat{BC})$$