

$$R^2 = (F_1 + BD)^2 + DC^2$$

$$R^2 = F_1^2 + 2F_1 \cdot BD + BD^2 + DC^2 \quad \dots \text{ (ii)}$$

د $\triangle BDC$ قائم الزاویه مثلث له مخې لیکلای شو چې:

$$BC^2 = F_2^2 = BD^2 + DC^2$$

اوس د $BD^2 + DC^2$ پر ځای د هغو مساوي اندازې يعني F_2^2 په (ii) رابطه کې وضع کوو:

$$R^2 = F_1^2 + 2F_1 \cdot BD + F_2^2 \quad \dots \text{ (iii)}$$

د $\triangle BDC$ له مثلث څخه د BD قیمت پیدا کوو او په 3 رابطه کې یې وضع کوو:

$$BD = F_2 \cos \alpha$$

$$R^2 = F_1^2 + 2F_1 \cdot F_2 \cos \alpha + F_2^2$$

په نتیجه کې د محصلې قوې اندازه لاندې اړیکې په واسطه محاسبه کوو:

$$\mathbf{R} = \sqrt{F_1^2 + F_2^2 + 2F_1 \times F_2 \cos \alpha}$$

موز وبلې وو چې د محصله قوې د هغې زاوې په لویوالي پورې اړه لري چې د دوو قوو ترمنځ واقع ده، اوس د (\mathbf{R}) د محصلې قیمت نظر د α قیمت ته تر مناقشې لاندې نیسو.

(الف) که د دوو قوو ترمنځ زاویه $\alpha = 0$ وی، یعنی قوو په یو لوري کې وی، نو لرو:

$$\mathbf{R} = \mathbf{F}_1 + \mathbf{F}_2$$

(ب) که چېرې 90° وی، یعنی قوو پر یو بل عمود وې، په دې صورت کې محصله داسې لیکو:

$$\mathbf{F} = \sqrt{F_1^2 + F_2^2}$$

(ج) که چېرې $(\alpha = 180^\circ)$ نو کولای شو چې ولیکو:

$$\mathbf{R} = |\mathbf{F}_1 - \mathbf{F}_2|$$

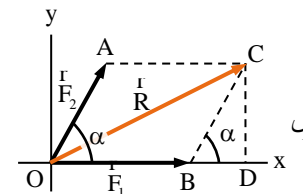
د یوولسم ټولګی د فزیک تعلیمي لارښود (دریمه دور)

تعلیمي موخې:

- زده کوونکي باید د موضوعاتو اساسي مفاهیمو سره بشپړ اشنا شي، لکه: د څو قواوو مجموعي قوه محاسبه، د قوې جوړه، د تعادل عمومي شرایط، د تعادل لومړی شرط، د تعادل دوهم شرط، د مومنټ فورمول بله تعبیر، د دوران نقطې موقعیت ټاکل.
- زده کوونکي باید د تعادل د کارونې او د تعادل د شرایطو په اړه بشپړ پوهه ترلاسه کړي.
- زده کوونکي باید د یادو شویو موضوعاتو اهمیت درک کړي او وکولی شي هغه په خپل ورځني ژوند کې تطبیق کړي.

هغه قوې چې د یوه جسم په مختلفو نقطو اغېزه کوي

که چېرې د \mathbf{F}_1 و \mathbf{F}_2 دوه قوې پر یوه جسم باندې داسې عمل وکړي چې د اغیزو خطونه یې پخپلو کې د α زاویه جوړه کړي (1-16) شکل په دې صورت کې د محصلې دلوي والي یا کچې او لوري ټاکلو لپاره، د هغوی دوو قوو د وکتورونو متوازي الاضلاع بشپړوو او له مخې یې محصله محاسبه کوو.



ش

د $\triangle ODC$ په قائم الزاویه مثلث کې لیدل کېږي چې:

$$OC^2 = R^2 = OD^2 + DC^2 \quad \dots \text{ (i)}$$

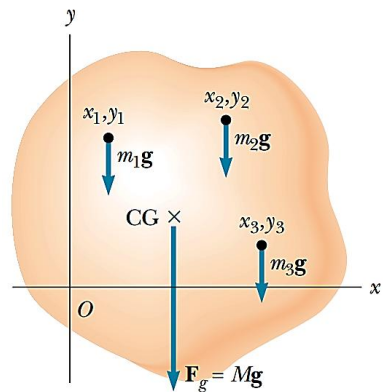
$$OB = F_1, \quad OD = OB + BD = F_1 + BD$$

اوس که چېرې د OD قیمت په (i) رابطه کې وضعه کړو، نو:

د څو واحدو کتلو څخه جوړ شوي یو سیستم د ثقل مرکز

که د یو جسم په جوړښت کې څو جسمونه د بېلابېلو کتلو سره شامل وي، نو د هغه جسم ثقل مرکز، چې د کتلې مرکز هم ورته ویل کېږي، داسې تعریفېږي: هغه ټکی چې داسې انګېرل کېږي لکه د ټول جسم کتله په همدې ټکی کې متمرکز شوې وي، د هغه جسم د کتلې مرکز بلل کېږي. که دا فاصله په cm اندازه شي، نو د هغه مختصات د لاندې طریقه سره ترلاسه کېږي:.

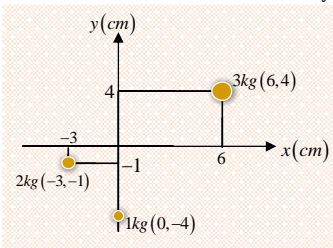
$$M(x_{CM}, y_{CM})$$



$$x_{CM} = (m_1 x_1 + m_2 x_2 + \dots) / (m_1 + m_2 + \dots) = \sum_i m_i x_i / \sum_i m_i$$

$$y_{CM} = (m_1 y_1 + m_2 y_2 + \dots) / (m_1 + m_2 + \dots) = \sum_i m_i y_i / \sum_i m_i$$

لومړۍ مثال. د لاندې سیستم د کتلې مرکز (مرکز ثقل) مختصات پیدا کړئ:



$$M(x_{cm}, y_{cm})$$

$$x_{cm} = [3kg \cdot 6cm + 2kg \cdot (-3cm) + 1kg \cdot 0] / (3kg + 2kg + 1kg)$$

$$= (18kg \cdot cm - 6kg \cdot cm) / 6kg$$

$$= (12kg \cdot cm) / (6kg) = \underline{2cm}$$

$$y_{cm} = [3kg \cdot 4cm + 2kg \cdot (-1cm) + 1kg \cdot (-4cm)] / (3kg + 2kg + 1kg)$$

$$= (12kg \cdot cm - 2kg \cdot cm - 4kg \cdot cm) / 6kg$$

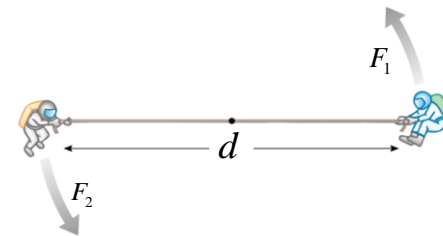
$$= (6kg \cdot cm) / (6kg) = \underline{1cm}$$

د قوې زوج

هره قوه چې پر یوه جسم اغېزه وکړي او جسم د دروان وړتیا ومومي، دا دقوه د راکښلو یا د فشار د قوې په توګه د جسم د دروان پر محور عمل کوي، له همدې امله ده چې دا قوه په هغو نقطو کې چې د دروان محور پر هغو تکیه لري، په عمومي ډول د قوې مټ او د دروان مومنت چې قوه یې منځ ته راوړي هم بدلېږي.

د قوې په یو زوج کې د دروان مومنت د $F_1 = F_2 = F$ قوه لپاره د هغو د اغېزو د خطونو تر منځ د L له متقابل واټن سره لاندې قیمتونو لرونکی دي:

$$M = F \cdot l$$



د ثقل مرکز

د یو جسم د ثقل مرکز هغه ټکی دی چې داسې انګېرل کېږي. لکه د ټول جسم وزن په همدې نقطه کې راټول شوی وي. په بله وینا، د یو جسم د ټولو ذراتو د وزنونو د محصلې د اغېز ټکی د همدې جسم د ثقل مرکز بلل کېږي.

- ☉ د دایرې او کرې ثقل مرکز د هغوی مرکز دی.
- ☉ د مربع، مستطیل، لوزي او متوازي الاضلاع ثقل مرکز د هغوی د قطرو د تقاطع ټکی دی.
- ☉ د مثلث د ثقل مرکز هغه ټکی دی چې د مثلث د منځنیو کرښو په تقاطع کې پروت وي، او د هر منځنۍ کرښې 1/3 برخه له قاعدې او 2/3 برخه له مقابلې سر څخه موقعیت لري.
- ☉ د ذودنقه (ټراپیزیم) ثقل مرکز په هغه ټکی کې پروت دی چې د مثلثونو د ثقل مرکزونو د تقاطع کرښې او د موازي دوو ضلعو د نیمايي کرښې د تقاطع کرښې سره یو ځای کېږي.
- ☉ د استوانې ثقل مرکز هغه ټکی دی چې د دوه قاعدو د مرکزونو د خط په منځ کې پروت وي.
- ☉ د هرم او مخروط ثقل مرکز په داسې ځای کې پروت دی چې د قاعدې څخه یې 1/4 برخه او د سر څخه یې 3/4 برخه اندازه وي

$$M_s(x_M, y_M)$$

$$x_M = m_s \cdot (x_1 + x_2 + x_3 + x_4) / 4m_s = 5kg \cdot (-5m - 5m - 2m - 2m) / 4 \cdot 5kg$$

$$= (-70kg \cdot m) / 20kg = -3.5m$$

$$y_M = m_s \cdot (y_1 + y_2 + y_3 + y_4) / 4m_s = 5kg \cdot (5m + 5m + 2m + 2m) / 4 \cdot 5kg$$

$$= (70kg \cdot m) / 20kg = 3.5m$$

$$M_s(-3.5m, 3.5m)$$

$$M_l(x_M, y_M)$$

$$x_M = m_l \cdot (x_1 + x_2 + x_3) / 3m_l = 3kg \cdot (8m + 8m + 4m) / 3 \cdot 3kg$$

$$= 3kg \cdot 20m / 9kg = 6.67m$$

$$y_M = m_l \cdot (y_1 + y_2 + y_3) / 3m_l = 3kg \cdot (5m + 1m + 1m) / 3 \cdot 3kg$$

$$= 3kg \cdot 7m / 9kg = 2.34m$$

$$M_l(6.67m, 2.34m)$$

او اوس لرو:

$$M(x_M, y_M)$$

$$x_M = [6kg \cdot 5.5m + 5kg \cdot (-3.5m) + 3kg \cdot 6.67m] / (6kg + 5kg + 3kg)$$

$$= (33kg \cdot m - 17.5kg \cdot m + 20.01kg \cdot m) / (14kg)$$

$$= (35.51kg \cdot m) / (14kg) = 2.54m$$

$$y_M = (6kg \cdot 7m + 5kg \cdot 3.5m + 3kg \cdot 2.34m) / (6kg + 5kg + 3kg)$$

$$= (6kg \cdot 7m + 5kg \cdot 3.5m + 3kg \cdot 2.34m) / (6kg + 5kg + 3kg)$$

$$= (42kg \cdot m + 17.5kg \cdot m + 7.02kg \cdot m) / (14kg)$$

$$= (66.52kg \cdot m) / (14kg) = 4.75m$$

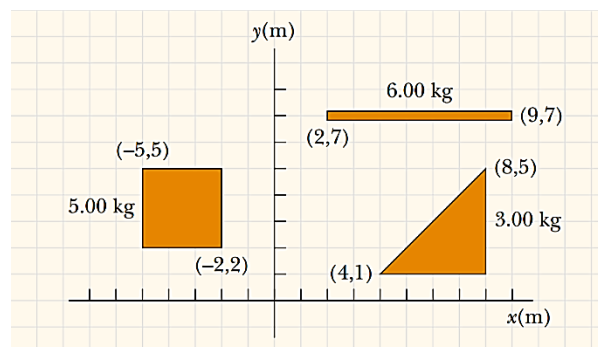
په نتیجه کې د کتلې مرکز مختصات ترلاسه شول، چې په لاندې ډول دي

$$M(2.54, 4.75)$$

په نتیجه کې د کتلې مرکز (ثقل مرکز) مختصات په لاندې ډول دي.

$$M(2, 1)$$

دویم مثال. لاندې شکل ته پام وکړئ او د کتلې مرکز مختصات پیدا کړئ.



حل. په لومړي ګام کې د هر شکل د کتلې مرکز پیدا کړئ، او وروسته د ټول سیستم د ثقل مرکز ترلاسه کړئ.

$$M_l(x_M, y_M)$$

$$x_M = m_l \cdot (x_1 + x_2) / 2m_l = 6kg \cdot (2m + 9m) / 2 \cdot 6kg$$

$$= (66kg \cdot m) / 12kg = 5.5m$$

$$y_M = m_l \cdot (y_1 + y_2) / 2m_l = 6kg \cdot (7m + 7m) / 2 \cdot 6kg$$

$$= (84kg \cdot m) / 12kg = 7m$$

$$M_l(5.5m, 7m)$$

حل.

$$x_1 = (M) \cdot (L/2) / M = L/2$$

$$x_2 = (M) \cdot (L/2) / 2M = L/4$$

$$x = x_1 + x_2 = L/2 + L/4 = 3L/4$$

د تعادل شرایط (Equilibrium's Condition)

که څو قوې په مختلفو ټکو د یو جسم پر عمل وکړي او جسم په حالت تعادل کې وي، نو دې معنا ده چې د جسم پر ټولې اغېزمنې قوې محصله باید صفر وي. برعکس، که دا شرط پوره نه شي، نو د قوې محصله به په جسم کې عجله یا شتاب تولید کړي او جسم به په یو انتقالي حرکت کې شي.

یو جسم چې په حالت تعادل کې وي، باید هیڅ دوران ونه لري. د دې لپاره اړینه ده چې د هر ټکي په اړه د دوران ټول مومنتونه هم صفر وي.

دا دواړه شرطونه د تعادل شرایط گڼل کېږي.

نو که څو قوې په مختلفو ټکو او نقاطو د جسم پر عمل وکړي، جسم یوازې هغه وخت په حالت تعادل کې وي چې لاندې دوه شرطونه پوره شي:

1. د ټولو قوې محصله = صفر
2. د ټولو مومنتونو محصله = صفر

لومړنی شرط: د جسم پر عمل کوونکو ټولو قوې محصله باید صفر وي

$$F_1 + F_2 + F_3 + \dots = \Sigma F = 0$$

او یا د مولفه په صورت: $\Sigma F_x = 0 \wedge \Sigma F_y = 0$

دویم شرط: د جسم د هر ټاکلي ټکي په اړه د ټولو دوران مومنتونه باید صفر وي

$$F_1 L_1 + F_2 L_2 + F_3 L_3 + \dots = \Sigma \tau = \Sigma M = 0$$

دریم مثال. د لاندې ښودل شوي شکل په اساس د کتلې مرکز مختصات داسې پیدا کړئ چې $m_1 = m_2 = 1.0kg$ او $m_3 = 2.0kg$ وي:

حل.

$$x_{cm} = \frac{\sum m_i x_i}{M} = \frac{(m_1 x_1 + m_2 x_2 + m_3 x_3)}{(m_1 + m_2 + m_3)}$$

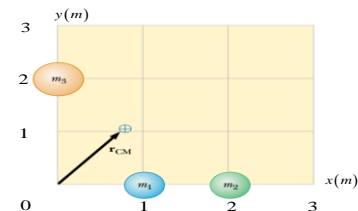
$$= \frac{1.0kg \cdot 1.0m + 1.0kg \cdot 2.0m + 2.0kg \cdot 0m}{1.0kg + 1.0kg + 2.0kg}$$

$$= \frac{3.0kg \cdot m}{4.0kg} = 0.75m$$

$$y_{cm} = \frac{\sum m_i y_i}{M} = \frac{(m_1 y_1 + m_2 y_2 + m_3 y_3)}{(m_1 + m_2 + m_3)}$$

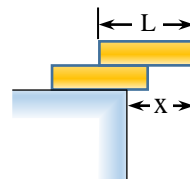
$$= \frac{1.0kg \cdot 0m + 1.0kg \cdot 0m + 2.0kg \cdot 2.0m}{1.0kg + 1.0kg + 2.0kg}$$

$$= \frac{4.0kg \cdot m}{4.0kg} = 1.00m$$

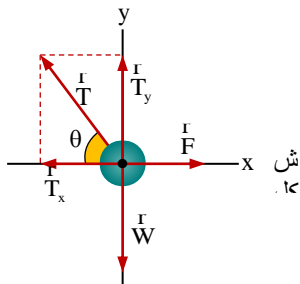


په نتیجه کې د کتلې مرکز (ثقل مرکز) مختصات داسې ترلاسه شول.

څلورم مثال. دوه کتابونه چې هم شکل او هم وزن لري، هر یو اوزدوالی (L) لري، لکه څنگه چې په لاندې شکل کې ښودل شوي، یو پر بل پروت دي. د دې لپاره چې کتابونه ونه غورځي، د اعظمې مخکینې تېریدو فاصله (X) محاسبه کړئ.



لومړۍ دغه درې قوې یوه ثابتته مختصاتو سیستم ته انتقال ورکوو، بیا د تعادل د لومړۍ شرط په دواړو محورونو x او y باندې د جسم لپاره تطبیقوو (شکل 10.29).



د تعادل لومړنی شرط د x محور په اړه تطبیق

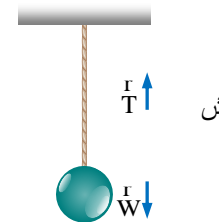
$$\begin{aligned}\sum F_x = 0 &\Rightarrow F - T_x = 0 \Rightarrow T_x = F \\ \Rightarrow T \cos \theta = F &\Rightarrow T \cos 53^\circ = 15 \text{ N} \Rightarrow T \times 0.6 = 15 \text{ N} \\ \Rightarrow T = 25 \text{ N}\end{aligned}$$

اوس د تعادل لومړنی شرط د y محور په اړه تطبیق کوو:

$$\begin{aligned}\sum F_y = 0 &\Rightarrow T_y - W = 0 \Rightarrow W = T_y \\ \Rightarrow W = T \sin \theta &= (25 \text{ N})(\sin 53^\circ) = (25 \text{ N})(0.8) = 20 \text{ N} \\ \Rightarrow W = 20 \text{ N}\end{aligned}$$

دریم مثال: یو ه لړګی چې ډېر سپک دی او اوږدوالی یې L دی افقي ډول ایښودل شوی، او داسې ګڼو چې وزن نه لري. د دې لاسټي په سر کې (نقطه A) هغه د یوې رسی په وسیله چې د دیوال سره وصل شوې ده او له لاسټي سره د $\theta = 37^\circ$ زاویه جوړوي، ټینګ شوی دی، په همدې حال کې یو جسم د وزن $W = 120 \text{ N}$ د لاسټي په منځنۍ نقطه کې ځوړند شوی دی (شکل 10.30).

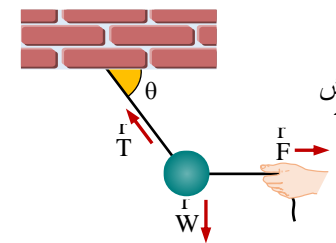
لومړی مثال: یوه کتله چې وزن یې 10 N دی، د یو تار په واسطه له د خونې له چت سره ځړول شوې او په آرام حالت کې ده (لکه د 10.27 شکل). د تار کششي قوه محاسبه کړئ



حل: څرنگه چې جسم په آرام حالت کې دی، نو پر هغه عمل کوونکې قوې په تعادل کې دي، یعنې

$$\sum F_y = 0 \Rightarrow T + (-W) = 0 \Rightarrow T - W = 0 \Rightarrow T = 10 \text{ N}$$

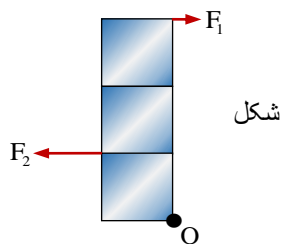
دویم مثال: یو جسم چې د یو تار په وسیله ځوړند شوی وي، د یوې قوې په اندازه $F = 15 \text{ N}$ افقي پرې کېږي او تار د چت سره د $\theta = 53^\circ$ زاویه جوړوي (شکل 10.28). جسم په د تعادل حالت کې ساتل کېږي. د تار د کشش قوې (T) چې پر تار عمل کوي محاسبه کړئ او هم د جسم وزن (W) پیدا کړئ.



حل: ه دې ځای کې درې قوې چې د تعادل په حال کې دي، پر جسم اغېزه کوي. دا درې قوې عبارت دي له:

- (الف) د جسم وزن (W)
- (ب) د واردې شوې قوې (F) چې پر جسم عمل کوي
- (ج) د کشش قوې (T) چې پر تار عمل کوي.

څلورم مثال: یو بکس فرض کېږي چې بې وزنه دی او د یو مربع له درې ضلعو جوړ شوی. دا د نقطې O پر شاوخوا کې په آزاده توګه تاوېږي (شکل 10.32). که $F_1 = 10 \text{ N}$ وي او هر ضلع د مربع 1 m وي، د هغه قوې F_2 مقدار ومومئ چې بکس په تعادل کې ساتي.

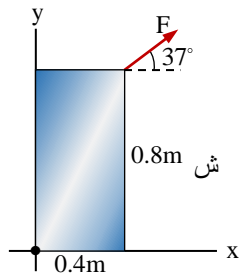


حل: د تعادل حالت لپاره لیکو:

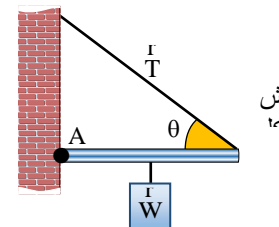
$$\sum M = 0 \Rightarrow F_2 d_2 - F_1 d_1 = 0 \Rightarrow F_2 (1 \text{ m}) - (10 \text{ N})(3 \text{ m}) = 0$$

$$\Rightarrow F_2 = 30 \text{ N}$$

پنځم مثال: د $F = 100 \text{ N}$ قوه په یوه نازک جسم باندې چې نږدې مستطیل شکل لري د ابعادو $(0.8 \text{ m} \times 0.4 \text{ m})$ باندې عمل کوي. دا قوه د نقطې O په مقابل سر کې اغېزه کوي او د مثبت x افقي محور له سطحې سره د 37° زاویه جوړوي (شکل 10.33).



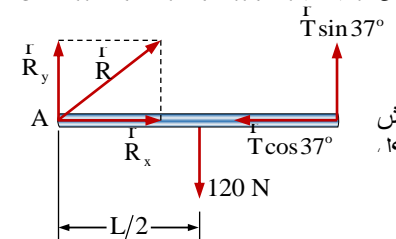
د دې لپاره چې جسم تعادل حالت غوره کړي، د F_x و F_y مقدار محاسبه کړې:



(الف) د رسی د کشش قوه (T) و مومی

(ب) هغه قوه عکس العمل (R) چې دیوال د لرګی په A وارډوي، څو دی؟

حل: (الف) کشش قوه په خپلو اجزاوو (مرکباتو) تجزیه کوو (شکل 10.31). د تعادل د دوهم شرط په کارولو سره لرو چې



$$\sum M = 0 \Rightarrow T_y \times L - W(L/2) = 0$$

$$\Rightarrow (T \cdot \sin 37^\circ)L - (120 \text{ N})(L/2) = 0 \Rightarrow T(0.6) = 60 \text{ N}$$

$$\Rightarrow T = 100 \text{ N}$$

(ب) د تعادل د لومړي شرط څخه لرو

$$\sum F_x = 0 \Rightarrow R_x - T_x = 0 \Rightarrow R_x = T_x$$

$$\Rightarrow R_x = T \cos 37^\circ = (100 \text{ N})(0.8) \Rightarrow R_x = 80 \text{ N}$$

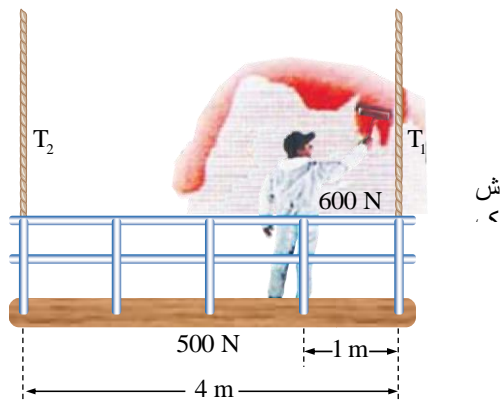
د فیثاغورث قاعدې له مخې د عکس العمل قوه داسې محاسبه کېږي:

$$\sum F_y = 0 \Rightarrow R_y + T_y - W = 0$$

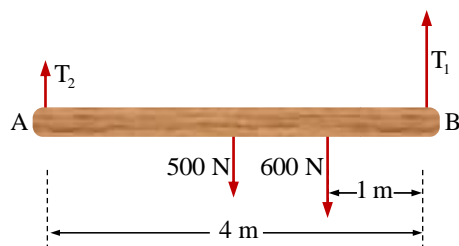
$$\Rightarrow R_y + (100 \text{ N})(\sin 37^\circ) - 120 \text{ N} = 0$$

$$\Rightarrow R_y = 60 \text{ N} \Rightarrow R^2 = R_x^2 + R_y^2 \Rightarrow R = 100 \text{ N}$$

شپږم مثال: یو رنگمال چې 600 نیوتونه وزن لري شکل سره سم په یوه ټاکلي موقیت کې د خوازې له پاسه چې وزن 500 نیوتونه دی او د یوې رسی په مرسته څړول شوی ولاړ دی او دیوال رنگوی، د راکنبلود قوو کچه T_1 و T_2 چې رسی عمل کوي، لاسته راوړی (په سیستم کې له نورو وزنونو څخه صرف نظر کېږي).



حل: لومړی د هغو قوو سکچ چې په سیستم کې عمل کوي رسموو:

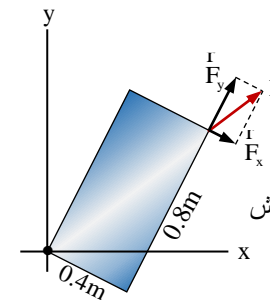


څرنگه چې سیستم د تعادل په حالت کې دی، نو کولای شو چې د مومنتونو د تعادل اصل و کاروو د T_1 او T_2 او قوو د محاسبه لپاره لومړی د A نقطه یعنی د T_2 قوی د اغېزې نقطه او بیا وروسته د T_1 قوی د اغېزې نقطه یعنی B ټاکو.

$$\begin{aligned}\sum M_A = 0 &\Rightarrow T_2 \cdot 0 + T_1 \cdot L - (500 \text{ N}) \cdot \frac{L}{2} - (600 \text{ N}) \cdot \frac{3L}{4} = 0 \\ &\Rightarrow 0 + T_1(4 \text{ m}) - (500 \text{ N}) \cdot \frac{4 \text{ m}}{2} - (600 \text{ N}) \cdot \frac{12 \text{ m}}{4} = 0 \\ &\Rightarrow T_1 = 700 \text{ N}\end{aligned}$$

د محاسبه کولو لپاره لرو:

حل: د \vec{F} زاویه چې قوه د مثبت x محور سره جوړوي، د مرکبو (اجزاوو) د ترلاسه کولو لپاره مهمه نه ده، ځکه جسم له لږ څرخول وروسته په تعادل کې واقع کېږي، او د هغه وخت قوه په د مستطیل د قطر په امتداد کې عمل کوي (شکل 10.34). د قوی په زیاتېدو سره مرکبې هم زیاتېږي.



د تعادل د حالت لپاره لیکلی شو چې

$$\begin{aligned}\sum M = 0 &\Rightarrow (F_y)(0.4 \text{ m}) - (F_x)(0.8 \text{ m}) = 0 \\ &\Rightarrow (F_y)(0.4 \text{ m}) = (F_x)(0.8 \text{ m}) \Rightarrow F_y = 2F_x \dots (i)\end{aligned}$$

اوس د فیثاورث قضیه په پام نیسو، چې:

$$(F_x)^2 + (F_y)^2 = F^2 \Rightarrow (F_x)^2 + (F_y)^2 = 10000 \text{ N}^2 \dots (ii)$$

اگر رابطه اول را در دوم وضع کنیم پس مرکبه‌ها را چنين می‌یابیم:

$$\begin{aligned}(F_x)^2 + (2F_x)^2 &= 10000 \text{ N}^2 \Rightarrow 4(F_x)^2 = 10000 \text{ N}^2 \\ &\Rightarrow (F_x)^2 = 2500 \text{ N}^2 \Rightarrow \sqrt{(F_x)^2} = \sqrt{2500 \text{ N}^2} \Rightarrow F_x \approx 50 \text{ N} \\ &\Rightarrow F_y = 2F_x = 2(50 \text{ N}) = 100 \text{ N} \Rightarrow F_y \approx 100 \text{ N}\end{aligned}$$

اوس د قوه راکنبل د لاندې رابطه په واسطه پیدا کوو:

$$T_x = T \cos \theta \Rightarrow 30.0 \text{ N} = T \cos 53.0^\circ \Rightarrow T = 50.0 \text{ N}$$

د T_y مقدار موندلو لپاره، لرو:

$$T_y = T \sin \theta = (50.0 \text{ N}) (\sin 53.0^\circ) \Rightarrow T_y = 40.0 \text{ N}$$

اوس پوهیږو چې $\sum F_y = 0$ لرو:

$$T_y + (-W) = 0 \Rightarrow W = T_y = 40.0 \text{ N}$$

بیا $\vec{W} = m\vec{g}$ رابطه لیکو:

$$m = \frac{W}{g} \Rightarrow m = \frac{40.0 \text{ N}}{10.0 \text{ N/kg}} = 4 \text{ kg}$$

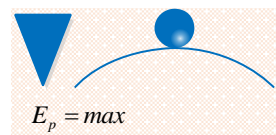

1. ثابت یا پایدار تعادل

تعادل هغه وخت دی چې که یوه جسم له خپل اصلي حالت څخه حرکت یا منحرف شي، بیا هم خپل اصلي حالت ته راګرځي. دا ډول تعادل هغه وخت رامنځته کېږي چې:

↔ د ثقل مرکز او د تکیې نقطې ترمنځ واټن لږ وي.

↔ د جسم د بنسټ سطحه لویه وي.

↔ د جسم پوتانشیل انرژي لږه وي.



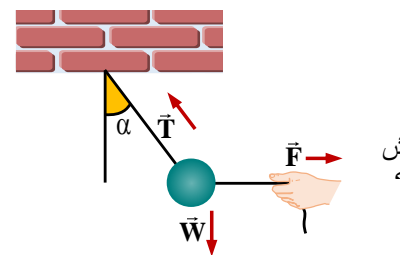
2. ناپایدار یا غیرثابت تعادل

تعادل هغه وخت دی چې که یوه جسم له خپل اصلي حالت څخه حرکت یا منحرف شي، بیا نشي کولی خپل اصلي حالت ته راګرځي. دا ډول تعادل هغه وخت رامنځته کېږي چې:

↔ د تکیې نقطه د بنسټ څخه لیرې وي.

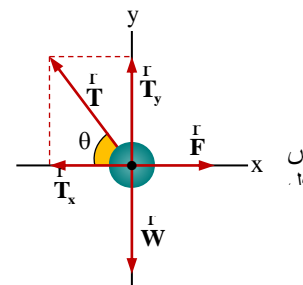
$$\begin{aligned} \sum M_B = 0 &\Rightarrow T_1 \cdot 0 + T_2 \cdot L - (500 \text{ N}) \cdot \frac{L}{2} - (600 \text{ N}) \cdot \frac{L}{4} = 0 \\ &\Rightarrow 0 + T_2 (4 \text{ m}) - (500 \text{ N}) \cdot \frac{4 \text{ m}}{2} - (600 \text{ N}) \cdot \frac{4 \text{ m}}{4} = 0 \\ &\Rightarrow T_2 = 400 \text{ N} \end{aligned}$$

اووم مثال: یو جسم چې د تار په مرسته څړول شوی دی د 30.0 N یوې قوې په واسطه چې په افقي توګه یې عمل کړی او شکل په څېر یې جسم په تعادل کې ساتکي، راکنبل کېږي د راکنبلو قوه چې پر تا عمل کوي محاسبه او هم د جسم وزن په لاس زاوړی په داسي حال کې چې: $g = 10.0 \text{ N/kg}$ وی



حل:

حل: په لومړي ګام کې زاویه ټاکو چې د افقي سطحې سره د کشش قوې جوړه کړې ده. یعنې: $\theta = 90.0^\circ - \alpha = 53.0^\circ$ موز واو چې جسم د تعادل په حالت کې دی، نو له همدې امله د شکل (10.38) په نظر کې نیولو سره د تعادل لومړی شرط لرو.



$$\sum F_x = 0 \Rightarrow F + (-T_x) = 0 \Rightarrow T_x = F = 30.0 \text{ N}$$

↔ د جسم د بنسټ سطحه کوچنۍ وي.

↔ جسم اعظمي پوتانشیل انرژي ولري.

3. بی تفاوت تعادل

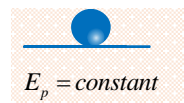
هغه حالت دی چې یوه جسم په ټولو حالاتو کې تعادل ولري، او دا ډول تعادل هغه وخت

رامنځته کېږي چې:

↔ د ثقل مرکز فاصله له تکیې نقطې سره ثابت وي.

↔ د جسم د تکیې سطحه په هر حالت کې ثابت پاتې شي.

↔ د جسم پوتانشیل انرژي هم په ټولو حالاتو کې ثابت وي.



کټلې نقطوي څه شی دی؟

ګټله د موادو هغه اندازه ده چې په یوه جسم کې ځای پر ځای شوې وي، او د هغې د اندازې واحد کیلوګرام دی. عملياً

داسې تعریف کېږي چې یوه لیټر د خالصو اوبو په $4^\circ C$ حرارت کې یو کیلوګرامه ګڼل شوی دی. یو بل تعریف چې د

فزیک په علم کې کارول کېږي، هغه دا دی چې ګټله یوه بې نقطه اندازه ده، ځکه د ستونزو په حل کولو کې اسانۍ پیدا

کوي، او د فزیکي مسایلو لپاره ترې ګټه اخېستل کېږي.